



**Státní zřízení a správní členění Švýcarska a Lichtenštejska
Státní zřízení a správní členění Švýcarského spříseženectví neboli
Švýcarské konfederace a
Lichtenštejského knížectví
Vytvořil Lubomír Homola
ZŠ Brodek u Přerova
Zeměpis II. stupeň
OPVK EU PŠ Z 024 - XXV.**

**Státní zřízení a správní členění
Švýcarska a **Lichtenštejnska****

**Státní zřízení a správní členění
Švýcarského spříseženectví neboli
Švýcarské konfederace a
Lichtenštejnského knížectví**

Neúřední název států: Švýcarsko, německy: Schweiz, švýcarsko-německy: Schwyz, francouzsky: Suisse, italsky: Svizzera, rétsky neboli rétorománsky: Svizra,

Lichtenštejnsko, německy: Liechtenstein

Úřední název států: Švýcarské spříseženectví neboli Švýcarská konfederace, německy: Schweizerische Eidgenossenschaft, francouzsky: Confédération Suisse, italsky: Confederazione Svizzera, rétsky neboli rétorománsky: Confederaziun Svizra, **Lichtenštejnské knížectví, německy: Fuerstentum Liechtenstein oder Fürstentum Liechtenstein**

Úřední jazyky států: v německy a švýcarskoněmecky mluvící části Švýcarska němčina a švýcarská němčina, ve francouzsky mluvící části Švýcarska francouzština, v italsky mluvící části Švýcarska italština, v rétsky neboli rétorománsky mluvící části Švýcarska réština neboli rétorománština, **v Lichtenštejnsku němčina**

**Státní zřízení států: konfederativní republika neboli spříseženectví
neboli konfederace, **unitární knížectví****

**Správní členění států: 23 kantony neboli stavy neboli místa, z toho
6 polokantonů neboli polostavů neboli polomíst,
1 knížectví:**

Pořadí Německý případně další neúřední název země Hlavní město

1.	Aargau	Aarau
2.	Appenzell	Appenzell
2. 1.	Appenzell inner Rhoden oder Appenzell-Innerrhoden	Appenzell
2. 2.	Appenzell ausser Rhoden oder Appenzell-Ausserrhoden	Herisau
3.	Basel	Basel
3. 1.	Baselstadt oder Basel-Stadt	Basel
3. 2.	Baselland oder Basel-Land, oder Basellandschaft oder Basel-Landschaft	Liestal
4.	Bern / Berne	Bern / Berne
5.	Freiburg / Fribourg	Freiburg / Fribourg


Pořadí Německý případně další neúřední název země Hlavní město

6.	Genf / Geneve	Genf / Geneve
7.	Glarus	Glarus
8.	Graubunden oder Graubünden / / Grischun / Grigioni	Chur / / Cuera / Coira
9.	Jura / Jura	Delsberg / Delémont
10.	Luzern	Luzern
11.	Neuenburg / Neuchatel	Neuenburg / Neuchatel
12.	Sankt Gallen	Sankt Gallen
13.	Schaffhausen	Schaffhausen
14.	Schwyz	Schwyz
15.	Solothurn	Solothurn
16.	Tessin / Ticino	Bellenz / Bellinzona
17.	Thurgau	Frauenfeld
18.	Unterwalden	Stans
18. 1.	Unterwalden nid dem Wald oder Unterwalden-Nidwalden	Stans
18. 2.	Unterwalden ob dem Wald oder Unterwalden-Obwalden	Sarnen


Pořadí Německý případně další neúřední název země Hlavní město

19.	Uri	Altdorf
20.	Waadt / Vaud	Losanen / Lausanne
21.	Wallis / Valais	Sitten / Sion
22.	Zuerich oder Zürich	Zuerich oder Zürich
23.	Zug	Zug
24.	Liechtenstein	Vaduz

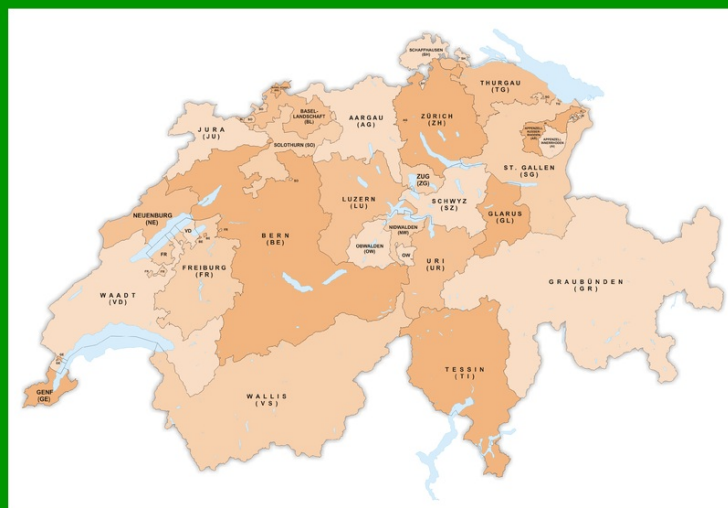
http://de.wikipedia.org/w/index.php?title=Datei:Flag_of_Switzerland.svg&filetimestamp=20100619080041




http://de.wikipedia.org/w/index.php?title=Datei:Coat_of_Arms_of_Switzerland.svg&filetimestamp=20100215203217



http://de.wikipedia.org/w/index.php?title=Datei:Karte_Kantone_der_Schweiz_farbig_2011.png&filetimestamp=20110116171128



http://de.wikipedia.org/w/index.php?title=Datei:Flag_of_Liechtenstein.svg&filetimestamp=20110824225235

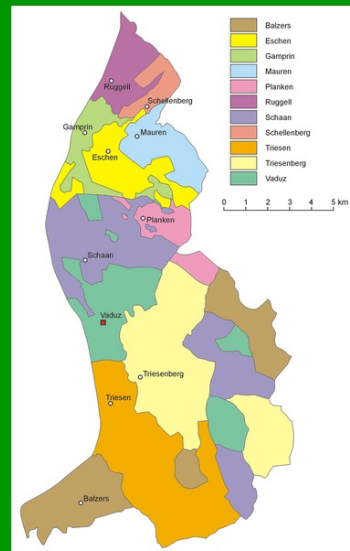


http://de.wikipedia.org/w/index.php?title=Datei:Coat_of_arms_of_Liechtenstein.svg&filetimestamp=20100912042033



http://de.wikipedia.org/w/index.php?title=Datei:Liechtenstein_topographic_map-de_Version_Tschubby.png&filetimestamp=20120212113727

<http://de.wikipedia.org/w/index.php?title=Datei:Liechtenstein-admin.png&filetimestamp=20060430171606>



Úkoly:

1. Jmenujte a ukažte především na mapách politického rozdělení Evropy i na jiných mapách Evropy státy Švýcarsko a Lichtenštejnsko.
2. Uveďte neúřední název států Švýcarska a Lichtenštejnska.
3. Uveďte úřední název států Švýcarska a Lichtenštejnska.
4. Určete úřední jazyky států Švýcarska a Lichtenštejnska.
5. Určete státní zřízení států Švýcarska a Lichtenštejnska.
6. Určete správní členění států Švýcarska a Lichtenštejnska na jejich jednotlivé země a jejich hlavní města.