



MINISTERSTVO ŠKOLSTVÍ,  
MLÁDEŽE A TĚLOVÝCHOVY



OP Vzdělávání  
pro konkurenceschopnost

INVESTICE DO ROZVOJE VZDĚLÁVÁNÍ

## Slovní úlohy

(sčítání, odčítání, násobení, dělení, o n více, o x více, x krát více, x krát méně, složené slovní úlohy)

### Matematika


Určeno pro žáky 3. ročníku

Vypracovala : Mgr. Dana Ředinová  
ZŠ Brodek u Přerova

OPVK EU PŠ M 015 - XVI.



U rybníka je 47 hus a 32 kačen. Kolik kusů drůbeže je u rybníka?



---

---

---

---

---

---

Na louce se pase 45 krav. Koní je na louce o 12 méně.  
Kolik koní je na louce?

Zápis:

---

---

---

---


Výpočet :

---

---

Odpověď :

---



Na zalévání zahrádky odnesl Petr 13 konví vody po 6 litrech vody.  
Kolik litrů vody to bylo?

Zápis:

---



---

---

---

Výpočet :

Odpověď :



Ivan měl 3 sáčky po 14 bonbonech. 28 bonbonů rozdál.  
Vytvoř otázku a vypočítej.



Zápis:

---

---

---

---

Výpočet :

---

---

Odpověď :

---

Základní vstupenka do divadla stojí 130 Kč. Dětská vstupenka je o 50 Kč levnější než vstupenka základní. Kolik platila teta za vstupenky pro sebe a pro dvě děti ?

Zápis:

---

---

---

---


Výpočet :

---


---

Odpověď :

---



Petr si koupil knihu za 130 Kč a 5 sešitů po 4 Kč. Před nákupem měl 250 Kč. Kolik korun mu zbylo?(Úlohu lze řešit i pomocí závorek.)



Zápis:

---

---

---

Výpočet :

---

Odpověď :

---

Babička má zavařených 26 sklenic jablek, 32 sklenic třešní, 18 sklenic jahod a 42 sklenic dýně. Kolik má ve spíži přibližně sklenic jablek, třešní, jahod a kolik sklenic dýní?

Zaokrouhlete počty sklenic na desítky.





V tomto předváděcím sešitě byly použity obrázky z galerie SMART Notebook .  
Objekty použité k vytvoření sešitu jsou součástí galerie SMART Notebook nebo  
jsou vlastní tvorbou autora.