



INVESTICE DO ROZVOJE VZDĚLÁVÁNÍ

Písemné sčítání s přechodem přes základ 10

Matematika

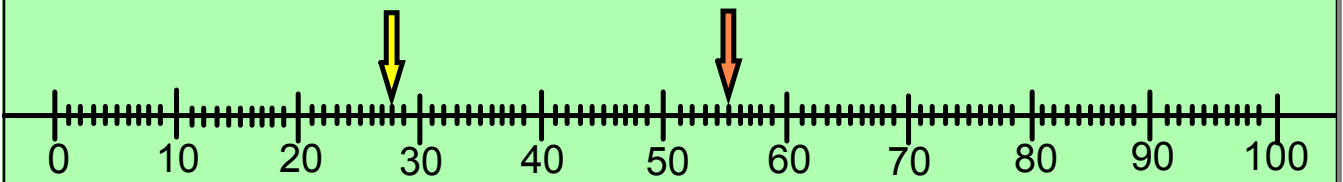
Určeno pro žáky 3. ročníku

Vypracovala : Mgr. Dana Ředinová
ZŠ Brodek u Přerova

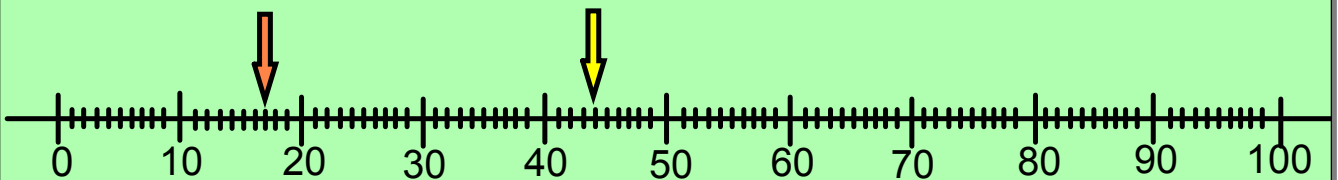
OPVK EU PŠ M 010 - XIII.



Napište a sečtěte čísla vyznačená na číselné ose.



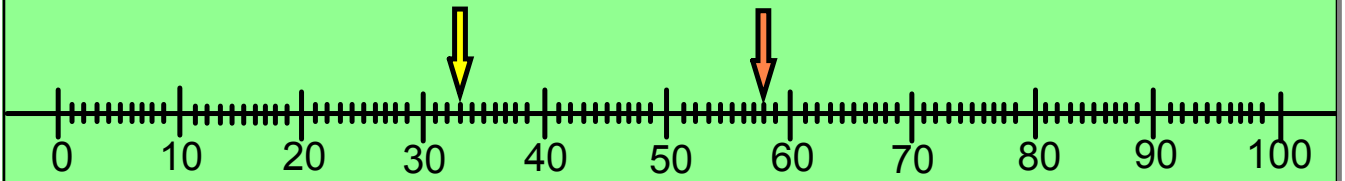
_____ k: _____



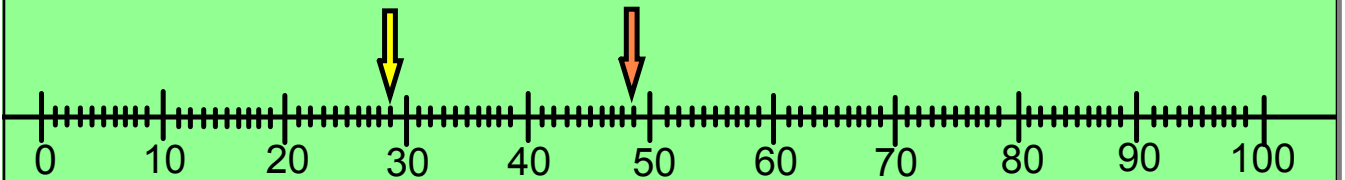
_____ k: _____



Napište a sečtěte čísla vyznačená na číselné ose.



_____ k: _____



_____ k: _____



Násobte z paměti, sčítejte písemně.

$$8 \cdot 9 + 29$$

_____ k: _____

$$7 \cdot 6 + 19$$

_____ k: _____



$$5 \cdot 7 + 37$$

_____ k: _____

$$9 \cdot 4 + 48$$

_____ k: _____

Doplňte chybějící číslice.

$$\begin{array}{r} \underline{47} \\ \hline \underline{75} \end{array}$$

k: _____

$$\begin{array}{r} \hline \\ \hline \end{array}$$

$$\begin{array}{r} \underline{29} \\ \hline \underline{64} \end{array}$$

k: _____

$$\begin{array}{r} \hline \\ \hline \end{array}$$

$$\begin{array}{r} \underline{39} \\ \hline \underline{66} \end{array}$$

k: _____


$$\begin{array}{r} \hline \\ \hline \end{array}$$

$$\begin{array}{r} \underline{67} \\ \hline \underline{83} \end{array}$$

k: _____

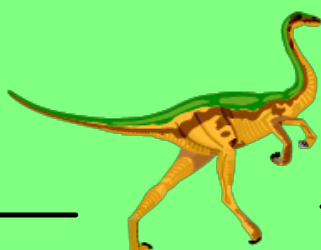
$$\begin{array}{r} \hline \\ \hline \end{array}$$

35 16 28
 27



Vyřešte slovní úlohu.

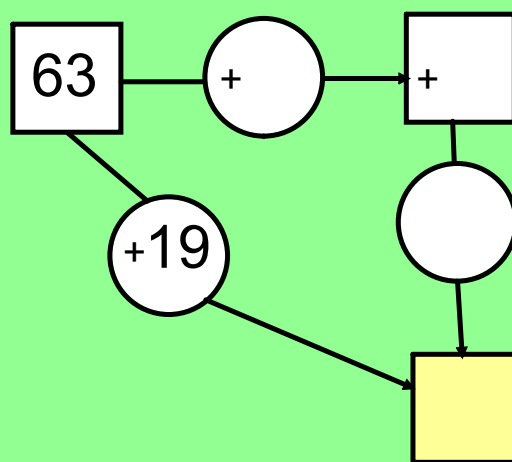
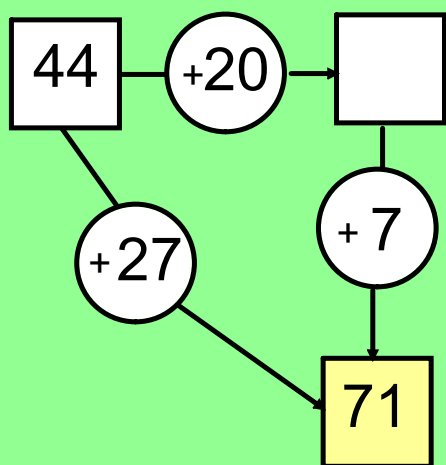
Pavel má 26 kuliček. Jirka má o 19 kuliček více.
Kolik kuliček mají dohromady?



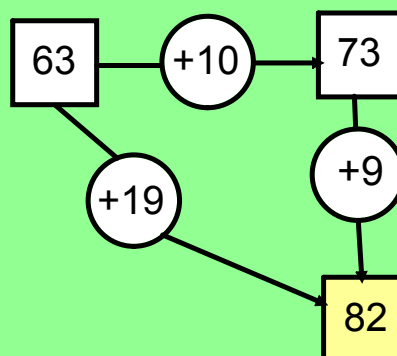
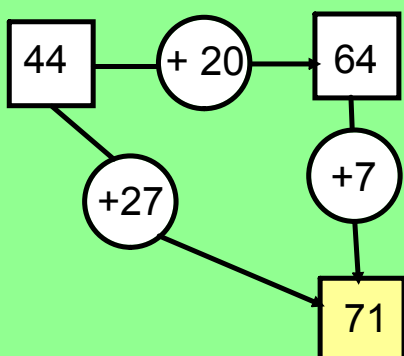
_____	k:	_____	_____	k:	_____
_____		_____	_____		_____
_____		_____	_____		_____



Doplň čísla do rámečků.



Správné řešení.



V tomto předváděcím sešitě byly použity obrázky z galerie SMART Notebook .

Objekty použité k vytvoření sešitu jsou součástí galerie SMART Notebook nebo jsou vlastní tvorbou autora.