



MINISTERSTVO ŠKOLSTVÍ,  
MLÁDEŽE A TĚLOVÝCHOVY



OP Vzdělávání  
pro konkurenceschopnost

INVESTICE DO ROZVOJE VZDĚLÁVÁNÍ

## Písemné odčítání čísel bez přechodu přes základ 10

### Matematika

Určeno pro žáky 3. ročníku

Vypracovala : Mgr. Dana Ředinová  
ZŠ Brodek u Přerova

OPVK EU PŠ M 009 - XIII.



Písemně odečtete pod sebou číslo 12 od čísla 56.

$$\begin{array}{r}
 56 \\
 - 12 \\
 \hline
 44
 \end{array}$$

← menšenec  
 ← menšitel  
 ← rozdíl

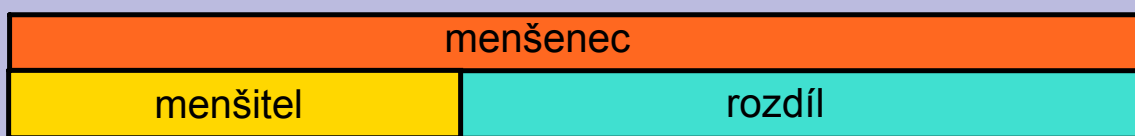
a) Odečteme jednotky.  
 Dvě a kolik je 6?  
 Dvě a čtyři je 6.

b) Odečteme desítky.  
 Jedna a kolik je 5?  
 jedna a čtyři je 5.

Kontrolu provedeme  
 sečtením rozdílu a  
 menšitele.

$$\begin{array}{r}
 \text{K: } 44 \\
 12 \\
 \hline
 56
 \end{array}$$

Vypočítej :



Menšenec	79	95	89				57
Menšitel	56	72		41	11	32	
Rozdíl			36	29	48	25	32

# Úkoly

1

Odečtěte čísla pod sebou a proved'te kontrolu.

65, 23

43, 12

78, 54

36, 25



—    ——— k: ———  
 —    ———  
 —    ———

—    ——— k: ———  
 —    ———  
 —    ———

—    ——— k: ———  
 —    ———  
 —    ———

—    ——— k: ———  
 —    ———  
 —    ———

Zalej květinu správnou konvičkou.



79  
-54

88  
-65

46  
-15


68  
-23

3

Napiš číslovkou, vypočítej a proved' kontrolu.

 a) sedmdesát pět minus dvacet tři

$$\begin{array}{r} \text{---} \\ - \text{---} \\ \hline \text{---} \end{array} \quad \text{k:} \quad \begin{array}{r} \text{---} \\ \text{---} \\ \hline \text{---} \end{array}$$

 b) čtyřicet osm minus třináct

$$\begin{array}{r} \text{---} \\ - \text{---} \\ \hline \text{---} \end{array} \quad \text{k:} \quad \begin{array}{r} \text{---} \\ \text{---} \\ \hline \text{---} \end{array}$$

 c) devadesát čtyři minus třicet dva

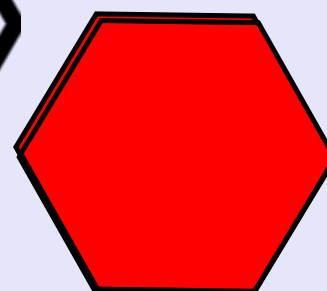
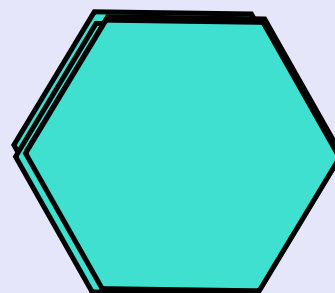

$$\begin{array}{r} \text{---} \\ - \text{---} \\ \hline \text{---} \end{array} \quad \text{k:} \quad \begin{array}{r} \text{---} \\ \text{---} \\ \hline \text{---} \end{array}$$

d) šedesát tři minus čtyřicet jedna

$$\begin{array}{r} \text{---} \\ - \text{---} \\ \hline \text{---} \end{array} \quad \text{k:} \quad \begin{array}{r} \text{---} \\ \text{---} \\ \hline \text{---} \end{array}$$

Vypočítej a překryj liché  
výsledky červenou a sudé  
zelenou barvou.

	$\begin{array}{r} 37 \\ -15 \\ \hline \end{array}$	
$\begin{array}{r} 86 \\ -62 \\ \hline \end{array}$	$\begin{array}{r} 49 \\ -18 \\ \hline \end{array}$	$\begin{array}{r} 75 \\ -22 \\ \hline \end{array}$
$\begin{array}{r} 54 \\ -13 \\ \hline \end{array}$	$\begin{array}{r} 58 \\ -44 \\ \hline \end{array}$	$\begin{array}{r} 62 \\ -30 \\ \hline \end{array}$



V tomto předváděcím sešitě byly použity obrázky z galerie SMART Notebook .  
Objekty použité k vytvoření sešitu jsou součástí galerie SMART Notebook nebo  
jsou vlastní tvorbou autora.