



INVESTICE DO ROZVOJE VZDĚLÁVÁNÍ

Celá čísla

(sčítání a odčítání celých čísel).

Matematika II. stupeň

ZŠ Brodek u Přerova

Mgr. Jana Skulová

OPVK EU PŠ M 004-XX.

Sčítání a odčítání celých čísel.

$$(+3) + (+1) = (+4)$$

$$(+1) + (-3) = (-2)$$

$$(-2) + (+3) = (+1)$$

$$(-3) + (-2) = (-5)$$

$$(-5) - (-6) = (+1)$$

$$(+4) - (+8) = (-4)$$

Ověřte magickým inkoustem.

Procvičte si odstraňování závorek.

$$-6 + (-4) = \boxed{}$$

$$5 + (-9) = \boxed{}$$

$$8 - (-9) = \boxed{}$$

$$-8 + (+6) = \boxed{}$$

$$8 + (-6) = \boxed{}$$

$$-9 - (+6) = \boxed{}$$

$$-8 + (-7) = \boxed{}$$

$$-5 - (-12) = \boxed{}$$

$$3 + (+6) = \boxed{}$$

$$23 + (-35) = \boxed{}$$

$$16 - (-24) = \boxed{}$$

$$-18 - (-24) = \boxed{}$$

Ověřte magickým inkoustem.

Počítejte z paměti a přiřaďte správný výsledek.

$$8 - 9 - 4 + 8 - 15 + 6 =$$

$$-4 + 9 - 15 - 2 + 3 - 6 =$$

$$10 - 9 - 8 + 3 - 6 + 15 - 9 + 6 =$$

$$-15 - (-6) + (-9) - (-4) + 7 - 6 + (-2) =$$

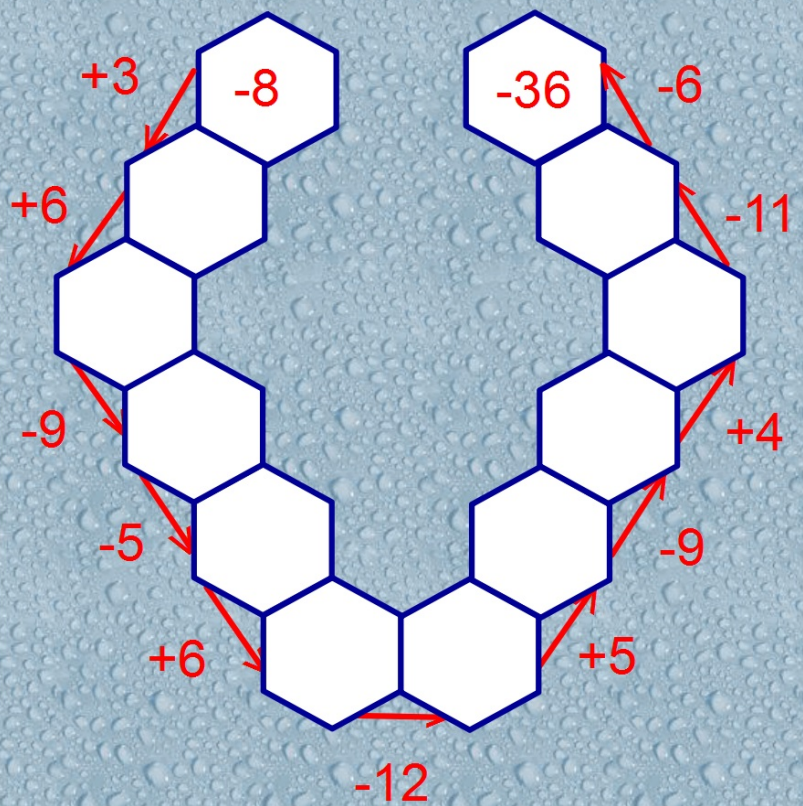

$$-(-12) + 5 - 8 - (-6) - (-4) + 5 - 2 + (-4) =$$

$$25 - 5 + (-6) - (-9) - 3 + 5 - 7 + (-5) - (-3) - 4 =$$



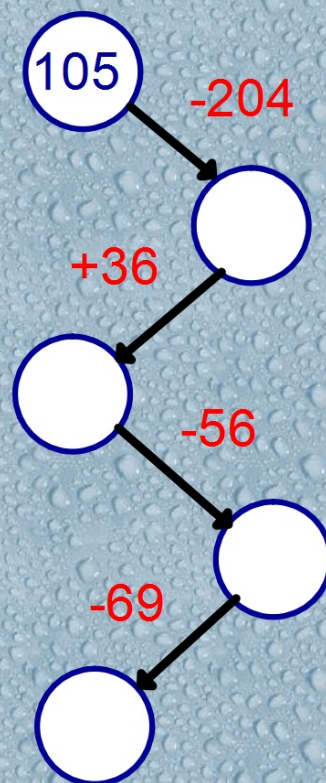
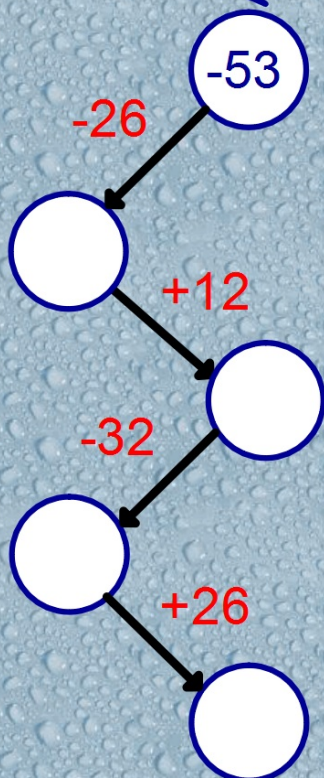
-15	2	-6
-15	12	18

Doplňte.



Ověřte magickým inkoustem.

Doplňte.



Ověřte magickým inkoustem.

Zdroje:

Vlastní materiály.

RNDr. Josef Molnár, CSc., Mgr. Libor Lepík, RNDr. Hana Lišková, RNDr. Jan Slouka: Matematika 7. Prodos, Olomouc, 1998. ISBN 80-7230-032-6.

