



INVESTICE DO ROZVOJE VZDĚLÁVÁNÍ

Desetinná čísla

(zápis a čtení desetinného čísla).

Matematika II.stupeň

ZŠ Brodek U Přerova

Mgr. Jana Skulová

OPVK EU PŠ M 002-XX.

Přečtěte desetinná čísla.

0	1									0,1
0	0	1								0,01
0	0	0	1							0,001
0	0	0	0	1						0,000 1
0	0	0	0	0	1					0,000 01
0	0	0	0	0	0	1				0,000 001
0	0	0	0	0	0	0	1			0,000 000 1
0	0	0	0	0	0	0	0	1		0,000 000 01
0	0	0	0	0	0	0	0	0	1	0,000 000 001
1	1	1	1	1	1	1	1	1	1	1,111 111 111

Jednotky

Desetiny

Setiny

Tisíciny

Desetitisíciny

Statisíciny

Milióntiny

Desetimilióntiny

Stomilióntiny

Miliardy

Přečtěte a запиšte čísla v tabulce.

desetinná čísla

sta	desítky	jednotky	Desetiny	setiny	tisíciny	desetitisíciny	stotitisíciny	milióntiny
	2	3	2	5	3			
		1	3	8	2	6		
		0	0	3	5	0	7	
	5	0	6	5	6	9	5	3
1	0	0	3	6	5	8	9	1

Zapište desetinná čísla.

3 celé, 2 desetiny, 4 setiny, 5 tisícín,

0 celá, 86 tisícín

53 celých, 25 tisícín 65 milióntín

20 celých, 145 stotisícín

123 celých, 74 setín, 86 tisícín, 9 desetitisícín


26 celých, 5desetin, 3 tisíciny


0 celá, 8 desetin, 5 setín, 6 tisícín

325 celých, 659 desetitisícín

328 celých, 56 milióntín

Řešení



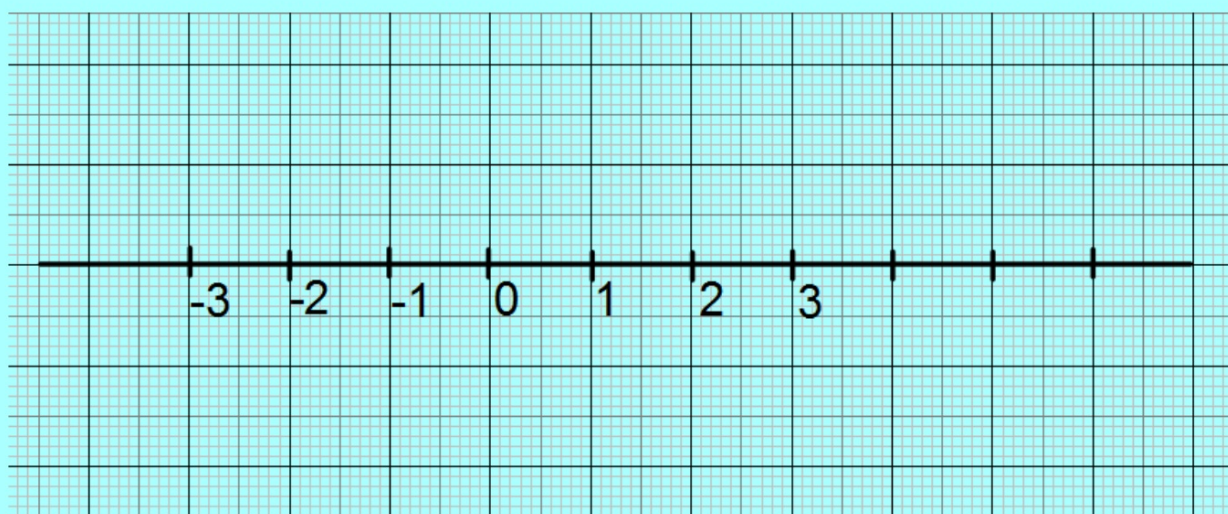


0,001

0 celá 1 tisícina

Znázorněte desetinná čísla na číselné ose.

0,2 1,5 -4,5 5,1 -1,4
0,9 -2,6 3,8 -2,1 6,2



Zdroje:

Vlastní materiály.

RNDr. Josef Molnár, CSc., Doc. RNDr. Milan Kopecký, CSc., RNDr. Hana Lišková, Doc. PhDr. Bohumil Novák, CSc., RNDr. Jan Slouka: Matematika 6. Prodos, Olomouc, 1998. ISBN 80-85806-98-3.