



ROMÁNSKÉ UM
Vytvořila Mgr.Jana Svoboda
ZŠ Brodek u Přerova
Výtvarná výchova - II.
OPVK EU PŠ VV - 01

Románské umění

11. - 13. století

Především církevní stavby, kostely, paláce, kláštery

Malířství - fresky, plastiky, malby, vitráže

Rukopisné knihy - kvašové barvy na pergamen

hlavně v kláštřích ve skriptoriích

Architektura - stavby z kamene, zpočátku rovné. Dřevěné

potom nahrazeny klenbami

Vchody zdobené freskami, budovali se hlavně v kláštřích




Rotunda sv. Jiří na hoře

http://cs.wikipedia.org/wiki/Soubor:Rip_rotur



Jak asi vypadaly románské stavby? Co je pro ně typické? P


10. stol	11. stol	12. stol	13. stol	14. stol	15. stol	16. stol	17. stol	18. stol	19. stol	20. stol	S O U Č A S N O S T	
Přemyslo			Lucemburko	Jagelloni	Habsburci				ČF			
ROMÁNSKÝ SLOH			GOTIKA		RENESEANCE	BAROKO	ROKOKO	KLASICISMUS	EMPIR	SECESE		MODERNÍ UMĚNÍ



Prohlédni si výše uvedenou tabulku a řekni, jak dlouho trvalo období románské architektury. Sleduj také, který rod v té době vládl. Vyhledej v encyklopedii, kteří panovníci zrc vládli v románské době (mezipředmětové vztahy - dějep

**Úkol - vytahuj ze čtverce v
pravého čtverce charakte
románského slohu, řekni co o
indiciích ještě**

Románské umění - charakt



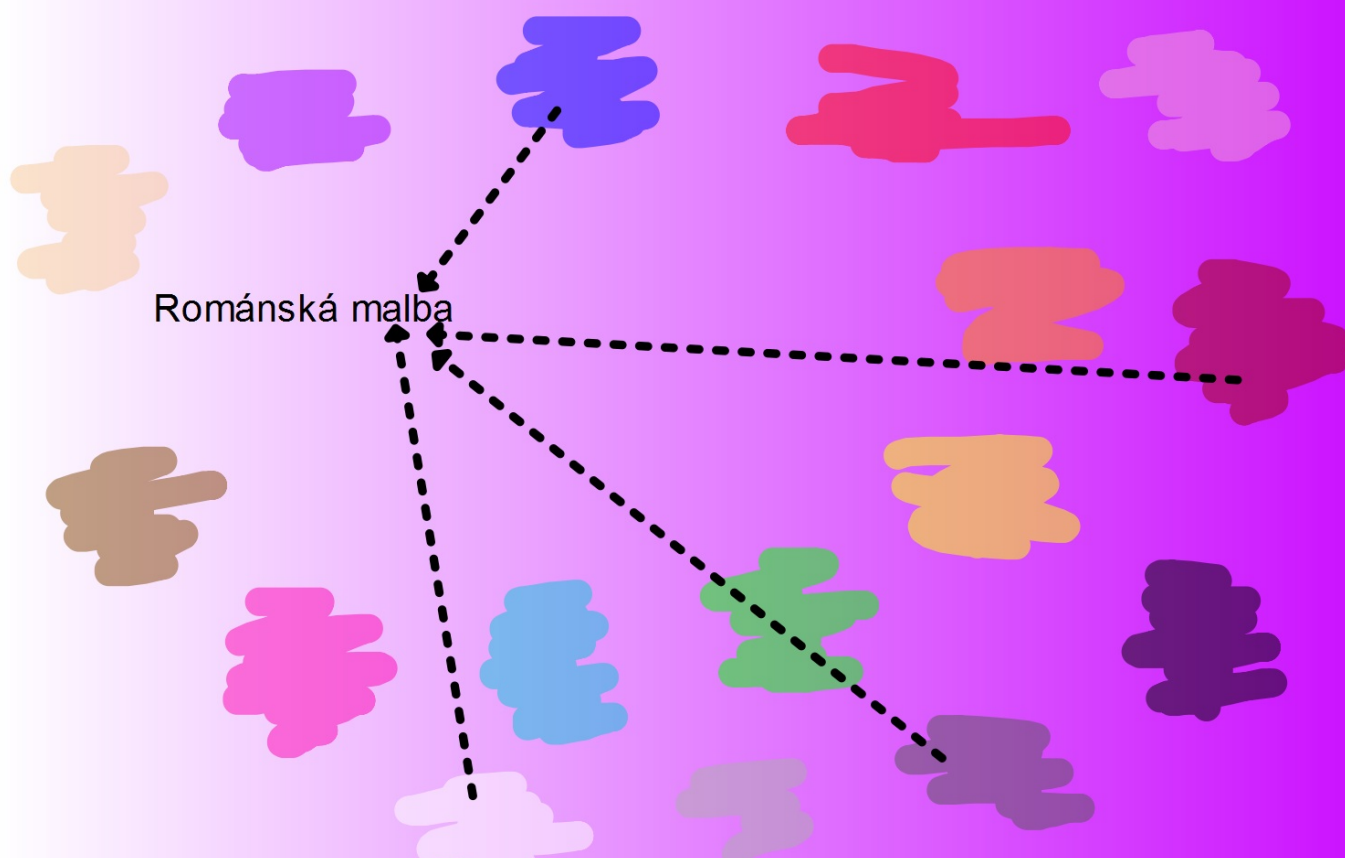


Vylušti tajenku, vysvětli pojem

Malby v románských stavbách líčily výjevy z bible nebo život světců, nejčastěji byly malovány ve čtyřech barvách, označ ve kterých, propoj barvu propojkou s pojmem románská malba



Správné řešení je: **červenohnědá, bílá, šedozeleá**



**Zakresli základní tvar románskýc
co je typickým znakem celéhc**

Základním architektonickým znakem románského slohu je pí



