



evropský
sociální
fond v ČR



EVROPSKÁ UNIE



MINISTERSTVO ŠKOLSTVÍ,
MLÁDEŽE A TĚLOVÝCHOVY



OP Vzdělávání
pro konkurenceschopnost

INVESTICE DO ROZVOJE VZDĚLÁVÁNÍ



EGYPTSKÉ UMĚNÍ, UMĚNÍ MEZOF

Vytvořila Mgr. Jana Svoboda

ZŠ Brodek u Přelouče

výtvarná výchova - II.

OPVK EU PŠ VV 00

EGYPTSKÉ UMI

Stará říše, Střední říše, Nová říše - 2 700

Městské státy, lokalizované v

Architektura - z hliněných cihel, sakrální sta

Pyramidy - hrobky zdobené freskami p

1. pyramida - Džoserova - nejstarší stavba na svě

Pyramidy v Gíze - Chufuova (Cheops) - neju

Sfingy - hlava faraona, tělova lva (stavby, sc

Sochařství - zpodobnění bez pohybu, materiál pískovec(p

Malba - stěny hrobek a chrámů, hlava z profilu, ra

Významné pamě

Karnacký chrámový ko

Tutanchemónova hl

Hlava Nefertiti (s

Popiš výstižně egyptské umění - metodu

- 1 řádek – jedno podstatné**
- 2 řádek – dvě přídavná jména, vyjadřují popis, vlastnosti**
- 3 řádek – tři slovesa, odpovídají na to,**
- 4 řádek – čtyřslovný výraz nebo věta, vyj:**
- 5 řádek – jedno podstatné jméno, slovo stejného nebo podobného významu, které shrnuje podstatu**

HYEROGLI



bůl



chleb



dít



dřev



důn



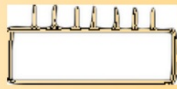
hora



káme



slunc



muž



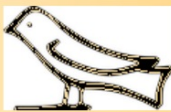
měsí



pohá



rostlir



mal



voda



vesnic



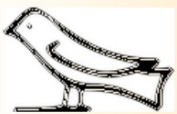
mlad



stror

Úkol
Zapamatujte si výz
hyerogli

HYEROGLI



bůl

chleb

důn

káme

muž

pohá

rostlir

dít

hor

slunc
vesnic

mlad

mal
vod

Úkol: Vložte do sark
významové pojmy tak,
ploše zůstaly jen ty,
vysvětlují výzi
hieroglifických z
zobrazených na st

dřev

měsí

stor

UMĚNÍ MEZOPOTAMIE

Městské státy v meziříčí Eufratu

Sumerská éra - 3 500 - 2 300 př. n. l.

Zikkuraty - 7 stupňové

Stély - ohlazený kámen s rýhovanými písmeny

Pečetidla - podpis ve formě klínové písmene

Novobabylonská říše - památky - Ištar

Visuté zahrady Semiramidy

Pojmy:

tell: kopec ze zeminy, která zbyla z

nekropolis: hřbitov

inkrustace: aplikace jiných materiálů, například

teracotta: pálená

kánon: schéma, určitý způsob

UMĚNÍ MEZOPOTAMSKÉ

kopec ze zeminy, která zbyla ze

aplikace jiných materiálů, např do

schéma, určitý zp

pálená hlí

hřbitc

Napište správný název popisovaného jevu, potom napsaný text vygumujte a zkontrolujte,

